

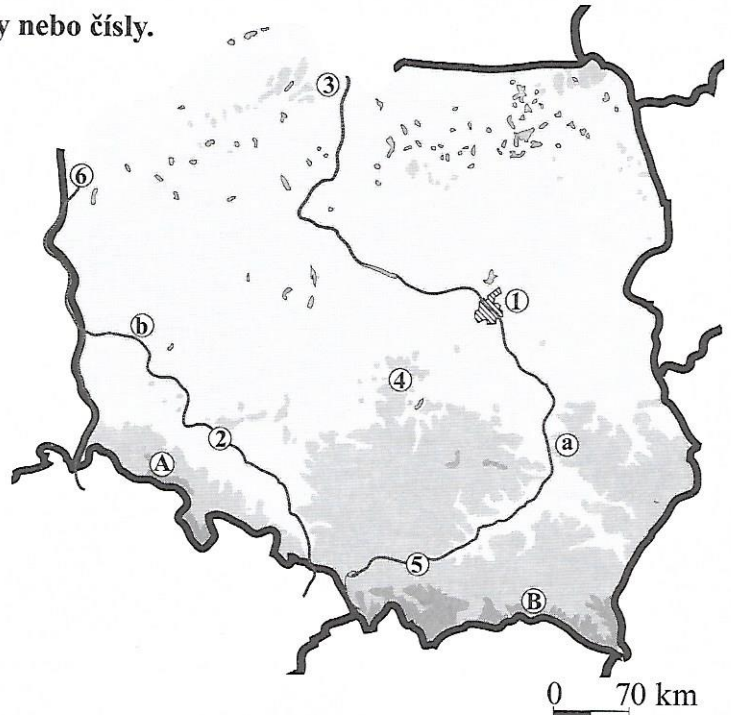
POLSKO

1. a) Do mapky doplňte údaje označené písmeny nebo čísly.

Pracujte s učebnicí, str. 48.

Pohoří: Řeky:
 A _____ a _____
 B _____ b _____

Města:
 1 _____ 4 _____
 2 _____ 5 _____
 3 _____ 6 _____



b) Modře vyznačte mořské pobřeží. Dopište název moře, které oblévá severní část Polska.

Pro zvědavé: _____

Doplňte a vyberte jednu z možností. Pracujte s přílohovou mapou z učebnice.


Polsko sousedí se (7 – 8) státy. Jsou to: _____

2. Doplňte nebo vyberte jednu z možností.

Pracujte s učebnicí, str. 48.

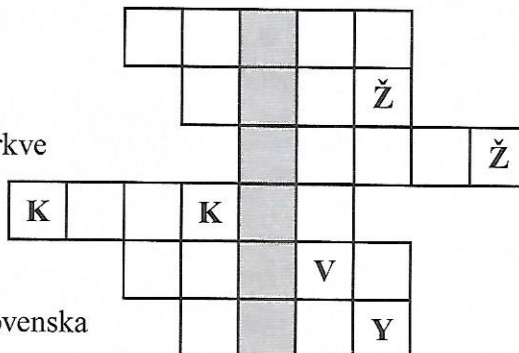
Polsko je náš (severní – jižní) soused. Úředním jazykem v Polsku je _____. Povrch území Polska tvoří převážně _____, na jihu se na hranicích s Českou republikou vypíná pohoří _____ a na hranicích se Slovenskem pohoří _____. Na severu Polska po ústupu ledovce zůstalo množství _____. Nejdelší polská řeka _____ teče přes hlavní město _____ a stejně jako řeka Odra ústí do _____ moře. Polsko je bohaté na zásoby _____. Rozvinutý je průmysl _____. Zemědělství vyniká pěstováním _____.

Vybarvěte vlajku Polské republiky:



3. Křížovka. Pracujte s učebnicí, str. 48.

1. Nejdelší polská řeka
2. Druhé největší polské město
3. Nejvyšší představitel římskokatolické církve
4. Historické město na jihu Polska
5. Polský soused s nejkratší hranicí
6. Hora v Tatrách na hranicích Polska a Slovenska



Tajenka: Rekreační středisko na pobřeží Baltu: _____